

السنة الدراسية : 2007-2008
مدة الإنجاز : ساعة واحدة
النقطة : /20

اختبار موحد
في مادة التكنولوجيا الصناعية

ثانوية سيدي يحيى الإعدادية بوجدة
الإسم :
القسم :
الرقم :

1- ضع علامة (X) في الجواب الصحيح

إقرار الحاجة	دراسة الجدوى	التعبير عن الحاجة	تحديد الحاجة

2- عرف ما يلي :

المنظم الأولي البدوي :

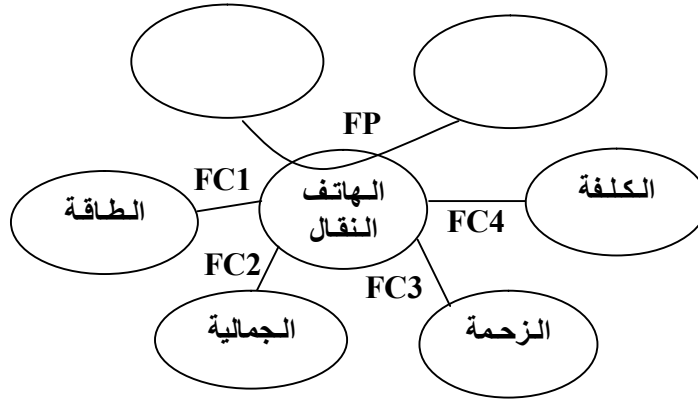
المنظم الآلي :

3- حدد المناظم الآلية من بين المناظم التالية :

الحاسوب و الطابعة
 أضواء الشوارع
 المنشار اليدوي

السيارة
 جرس الإعدادية
 جهاز إنذار

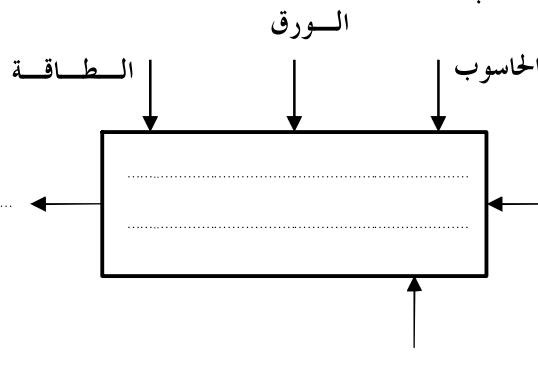
4- أتمم بياني الوظائف أسفله :



5- أتمم صياغة الوظائف التالية :

.....	FC1
.....	FC2
.....	FC3
.....	FC4

6- أتمم التمثيل الوظيفي للطابعة:



السنة الدراسية : 2007-2008 مدة الإنجاز : ساعة واحدة النقطة : /20	اختبار موحد في مادة التكنولوجيا الصناعية التصحيح	ثانوية سيدي يحيى الاعدادية بوجدة الإسم : القسم : الرقم :
--	--	---

7- ضع علامة (X) في الجواب الصحيح

إقرار الحاجة	دراسة الجدوى	التعبير عن الحاجة	تحديد الحاجة	
		X		يستعمل بياني الحاجة في مرحلة:
	X			يستعمل بياني الوظائف في مرحلة:

8- عرف ما يلي :

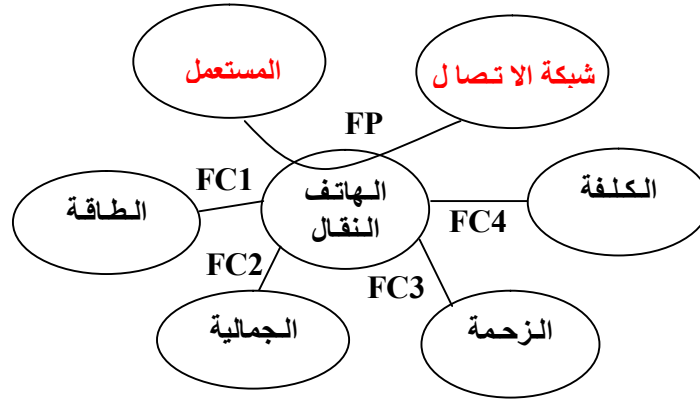
المنظم الأولي اليدوي : هو منظم يعتمد في اشتغاله على الجهد العضلي للإنسان.

المنظم الآلي : هو منظم يشتغل دون تدخل الإنسان.

9- حدد المناظم الآلية من بين المناظم التالية :

- الحاسوب و الطابعة
 أضواء الشوارع
 المنشار اليدوي
 السيارة
 جرس الإعدادية
 جهاز إنذار

10- أتمم بياني الوظائف أسفله :



11- أتمم صياغة الوظائف التالية :

FC1	توفير الطاقة الضرورية لاشتغال الهاتف.
FC2	مراعاة جمالية المنتج.
FC3	أن يكون ذو زحمة مختزلة.
FC4	كلفة مناسبة.

12- أتمم التمثيل الوظيفي للطابعة:

