

مادة التكنولوجيا الصناعية فرض 1		ثانوية عبد الخالق الطريس الإعدادية - وجدة -	
النقطة :	المدة : 45 د	الثالثة	الرقم:

1. عرف الحاجة؟ وأذكر أنواعها؟

2

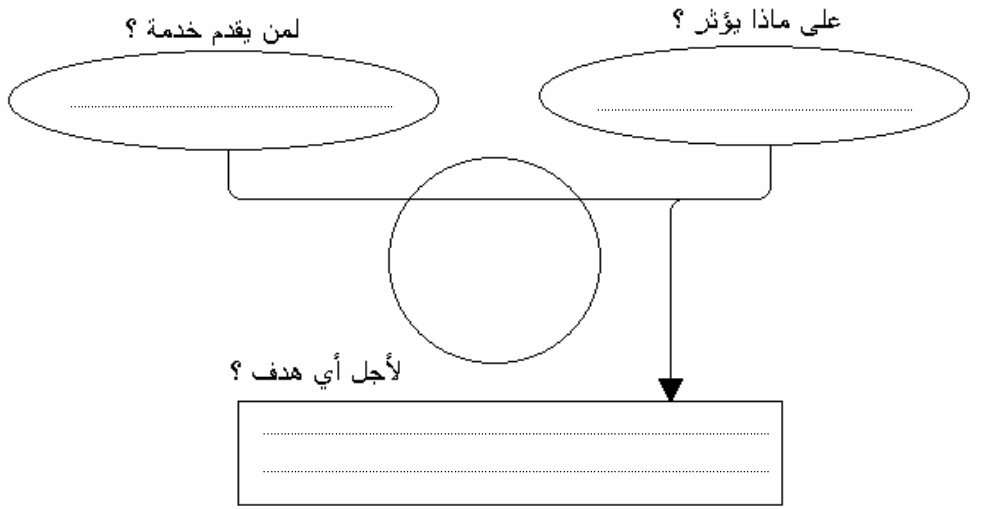
2. ضع علامة (x) في الخانات المناسبة :

4

إسم المقالة	خصوصية	عمومية	قطاع أولي	قطاع ثانوي	قطاع ثالثي
المكتب الوطني للسكك الحديدية					
شركة لتركيب أجهزة الحاسوب					
سوق مرجان					
معمل الأجرور					

3. أتمم بياني الحاجة للتلاجة:

4



4. أذكر 3 معايير يجب اعتمادها لتصنيف المقاولات حسب الحجم :

3

5. أذكر الوظيفة الخدماتية و التقنية لمنتوج من اختيارك :

3

6. ماهو الهدف من دراسة الجدوى؟ و ما اسم الأداة المستعملة في هذه المرحلة؟

2

7. أتمم تراجم المصطلحات التالية بالفرنسية؟

2

تكنولوجيا :
حاجة :

مادة التكنولوجيا الصناعية فرض 1		ثانوية عبد الخالق الطريس الإعدادية - وجدة -	
النقطة :	المدة : 45 د	الثالثة	الرقم :

1. عرف الوظيفة؟ وأذكر أنواعها؟

.....

.....

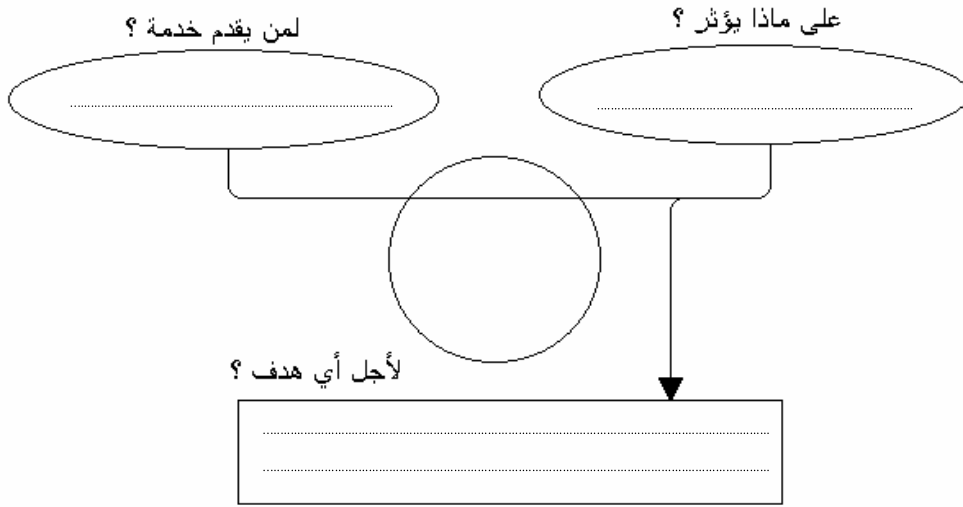
.....

.....

2. ضع علامة (x) في الخانات المناسبة :

إسم المقاول	عمومية	خصوصية	قطاع أولي	قطاع ثانوي	قطاع ثالثي
معمل الأجرور					
سوق أسواق السلام					
شركة لتركيب أجهزة الحاسوب					
المكتب الوطني للسكك الحديدية					

3. أتمم بياني الحاجة لآلة الغسيل المنزلية:



4. أذكر أنواع المقاولات حسب ملكية الرسمال مع تعريف كل نوع؟

.....

.....

.....

.....

.....

5. أتمم الجدول التالي؟

منتجات لا مادية	منتجات مادية
.....
.....

6. أتمم تراجم المصطلحات التالية بالفرنسية؟

منتوج :

وظيفة :

مادة التكنولوجيا الصناعية فرض 1		ثانوية عبد الخالق الطريس الإعدادية - وجدة -	
الاسم والنسب :	الرقم :	الثالثة	المدة : 45 د

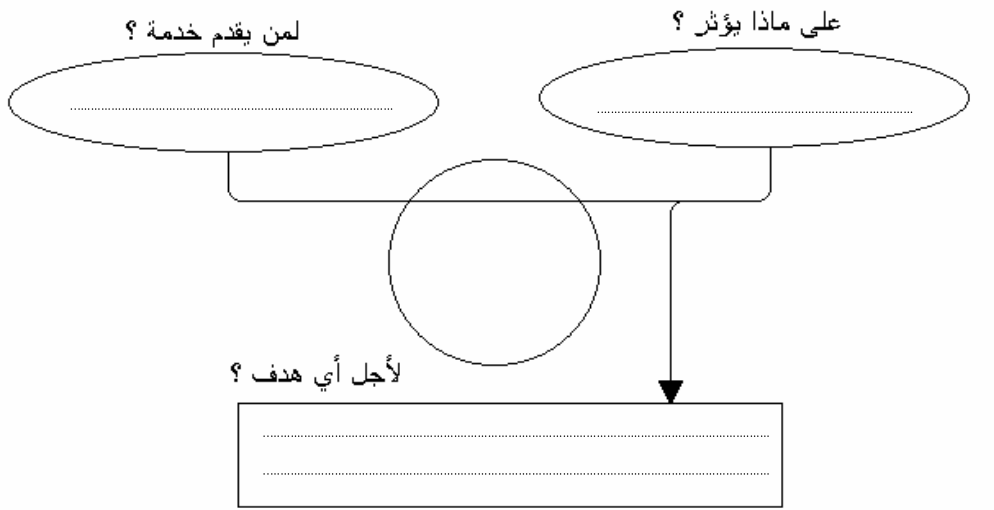
1. عرف المقاول ؟

.....
.....
.....
.....

2. ضع علامة (x) في الخانات المناسبة :

إسم المقاول	خصوصية	عمومية	قطاع أولي	قطاع ثانوي	قطاع ثالثي
ضيعة زراعية					
شركة لتركيب أجهزة الحاسوب					
سوق ممتاز مرجان					
معمل النجارة					

3. أتمم بياني الحاجة للمكواة الكهربائية:



4. أذكر 3 معايير يجب اعتمادها لتصنيف المقاولات حسب الحجم :

5. أذكر الوظيفة الخدماتية و التقنية لمنتوج من اختيارك :

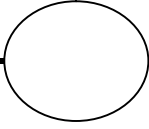
6. ضع علامة (x) في الخانة المناسبة لكل أداة :

الأداة المستعملة	تحديد الحاجة	تحليل الحاجة	دراسة الجدوى
بياني الحاجة			
أبحاث ميدانية			
بياني الوظائف			

7. أتمم تراجع المصطلحات التالية بالفرنسية ؟

تقنية :
سوق :

مادة التكنولوجيا الصناعية فرض 1		ثانوية عبد الخالق الطريس الإعدادية - وجدة -	
الاسم والنسب :	الرقم :	الثالثة	المدة : 45 د



1. صنف المقاولات حسب ملكية الرسمال مع تعريف كل نوع ؟

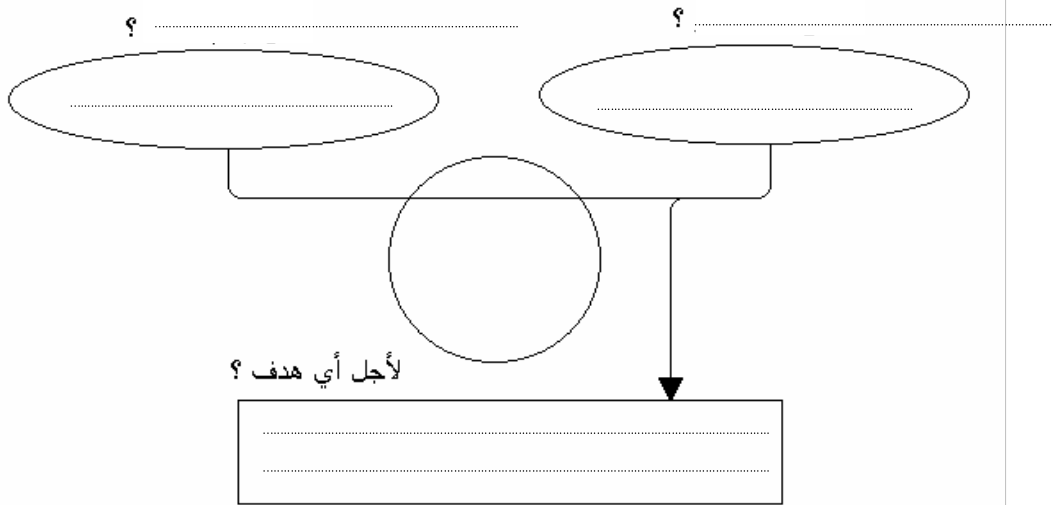
3

2. ضع علامة (x) في الخانة المناسبة :

العنصر	مقاول	منتوج مادي	خدمة	حاجة
قلم الرصاص				
السياسة				
شركة لتركيب أجهزة الحاسوب				
النوم				
بنك				
الحاسوب				

3

3. أتمم بياني الحاجة للهاتف النقال:



4

4. إملأ الجدول التالي :

المنتوج	وظائفه الخدمائية	وظائفه التقنية
الدراجة العادية		

2

5. أذكر مراحل بناء بياني الوظائف ؟

3

6. ضع علامة (x) في الخانة المناسبة لكل أداة :

الأداة المستعملة	تحديد الحاجة	تحليل الحاجة	دراسة الجدوى
بياني الحاجة			
بياني الوظائف			
أبحاث ميدانية			

3

7. أتمم تراجم المصطلحات التالية بالفرنسية ؟

تحليل الحاجة :
رسمال :

2